



باسمه تعالی

نوبت امتحانی: اول

پایه: دوم

تاریخ امتحان: ۱۴۰۱/۱۰/۴

مدت امتحان:

اداره کل آموزش و پرورش استان س و ب

دبستان پسرانه غیردولتی فرهیختگان دانش

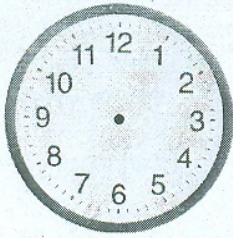
اداره آموزش و پرورش شهر زاهدان

نام: .....


نام خانوادگی: .....

شعبه کلاس: .....

نام درس: ریاضی

نام و نام خانوادگی دبیر:	نمره به عدد:	تجدید نظر:	نام و نام خانوادگی دبیر:	نمره به عدد:	تاریخ و امضا:	تاریخ و امضا:
پیامبر اکرم(ص): « نیکوکاری کامل آن است که در نهان همان را انجام دهی که در آشکارا انجام می دهی »						
ردیف	بارم					
۱		<p>جاهای خالی را کامل کنید.</p> <p>۹۶ یعنی ..... یکی و ..... ده تایی</p> <p>عدد ۸۲ به ۸۰ نزدیک تر است یا به ۹۰؟</p>				
۲		<p>الگوها را ادامه بده.</p> <p>..... و ..... و ..... و ۱۵ و ۱۰ و ۵</p> <p>..... و ..... و ۲۱ و ۲۴ و ۲۷</p>				
۳		<p>در باغ علیرضا ۲۴ درخت سیب و ۳۵ درخت انار وجود دارد. علیرضا در باغش چند درخت سیب و انار وجود دارد؟ (روش فرایندی)</p>				
۴		<p>به رقم و حروف بنویس.</p> <p>۵۳ ..... صد و هفتاد و نه</p>				
۵		<p>عدد های دو رقمی بنویسید که یکان آنها ۲ و ۴ و دهگان آنها ۸ و ۵ باشد.</p>				
۶		<p>یکان عددی ۹ و دهگان آن ۴ تا کمتر است آن چه عددی است؟</p>				
۷		<p>۲۰ دقیقه قبل از ساعت ۴:۰۸ چقدر است؟</p>				
						

دو شکل رو به رو چه تفاوتی با هم دارند؟



۸

حاصل جمع و تفریق های زیر را به دست آورید.

$$۱۰ + ۱۰ + ۵ + ۵ + ۲۰ + ۳ = \bigcirc$$

$$۶ + ۶ + ۶ = \bigcirc$$

۹



حاصل جمع و تفریق های رو به رو را به روش تقریب به دست آورید.

$$\begin{array}{r} ۵۳ \longrightarrow \text{-----} \\ - \quad \quad \quad - \quad \quad \quad - \quad \quad \quad - \\ ۲۷ \longrightarrow \text{-----} \\ \text{-----} \end{array}$$

$$\begin{array}{r} ۷۸ \longrightarrow \text{-----} \\ + \quad \quad \quad + \quad \quad \quad + \quad \quad \quad + \\ ۱۲ \longrightarrow \text{-----} \\ \text{-----} \end{array}$$

۱۰

هر کدام از شکل های زیر چند خط تقارن دارد؟



۱۱

جاهای خالی را کامل کنید.

بزرگترین عدد دو رقمی ----- است .

کوچک ترین عدد دو رقمی ----- است .

۱۲

اگر فاطمه ۱۰ تا سکه ۱۰ ریالی به بانک بدهد بانک باید چند سکه به او بدهد؟

۱۳

پسرم موفق باشی